

**Диагностическая тематическая работа №1**  
**по подготовке к ЕГЭ**  
**по ГЕОГРАФИИ**  
**по теме «География мира»**

**Инструкция по выполнению работы**

На выполнение работы по географии отводится 90 минут. Работа включает в себя 28 заданий.

К каждому заданию с выбором ответа (1–13, 17–20, 23) приводятся четыре варианта ответа, из которых только один верный. При выполнении такого задания обведите номер выбранного ответа в работе кружком. Если Вы обвели не тот номер, то зачеркните обведённый номер крестиком, а затем обведите номер нового ответа.

Ответы к заданиям 14–16, 21, 22, 24, 25, 28 запишите в работе в отведённом для этого месте. В случае записи неверного ответа зачеркните его и запишите рядом новый.

Задания 26 и 27, на которые следует дать развёрнутый ответ, выполняйте на отдельном листе.

При выполнении работы разрешается использовать непрограммируемые калькуляторы. Географические атласы не используются.

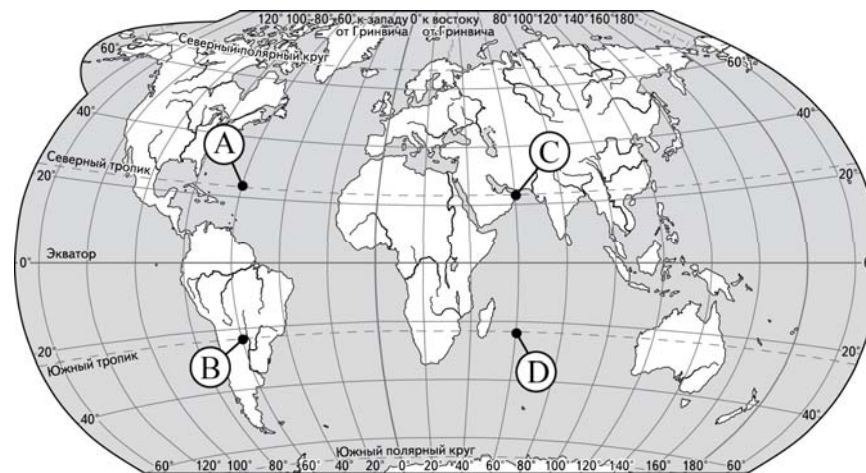
Советуем выполнять задания в том порядке, в котором они даны. В целях экономии времени пропускайте задание, которое не удаётся выполнить сразу, и переходите к следующему. Если после выполнения всей работы у Вас останется время, то Вы сможете вернуться к пропущенным заданиям. Постарайтесь выполнить как можно больше заданий.

*Желаем успеха!*

**1** Как называется условная линия начала отсчёта географической широты?

- 1) нулевой меридиан
- 2) полярный круг
- 3) тропик
- 4) экватор

**2** Какая из обозначенных на карте точек имеет координаты  $23^\circ$  ю.ш.  $60^\circ$  з.д?

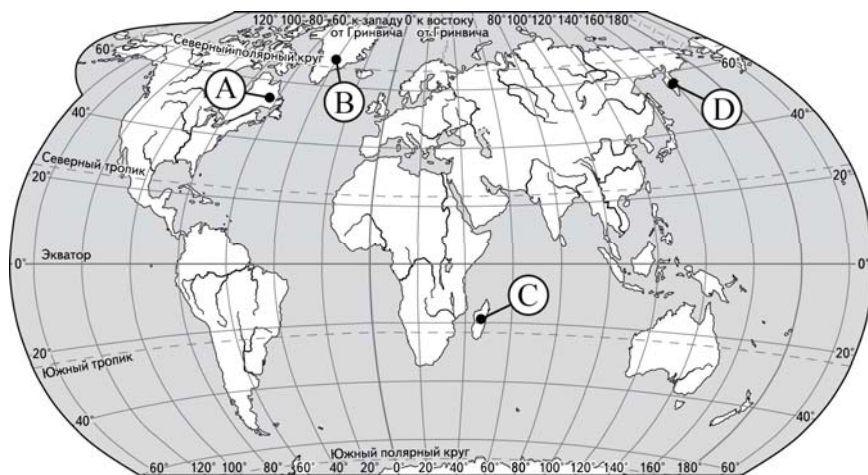


- 1) A
- 2) B
- 3) C
- 4) D

**3** Какая горная порода образовалась в результате процесса физического (механического) выветривания?

- 1) нефть
- 2) песок
- 3) соль
- 4) уголь

4 В каком из районов, обозначенных буквами на карте мира, можно наблюдать действующие гейзеры?



- 1) A                      2) B                      3) C                      4) D

5 Как называются ветры, постоянно дующие в течение года из области тропических широт к экватору?

- 1) западный перенос
- 2) муссоны
- 3) пассаты
- 4) стоковые ветры

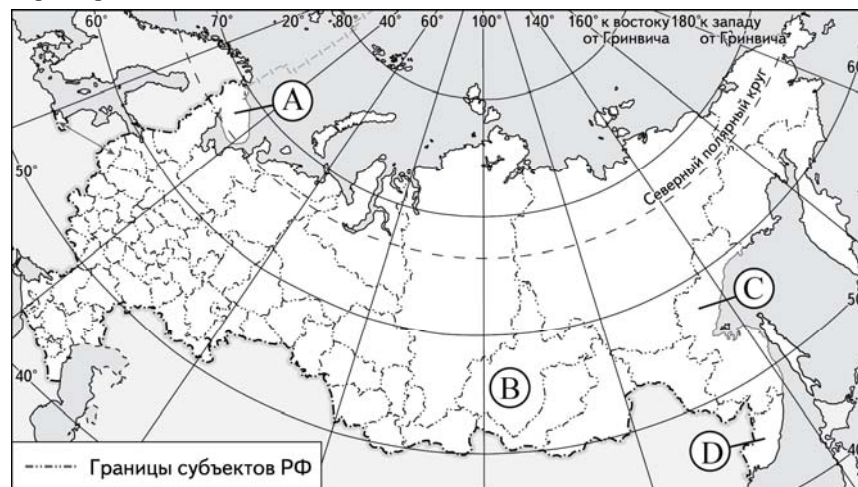
6 Водами какого из перечисленных морей омывается северо-восточное побережье России?

- 1) Балтийское
- 2) Баренцево
- 3) Берингово
- 4) Японское

7 С каким государством Россия имеет наиболее протяжённую сухопутную границу?

- 1) Грузия                      2) Казахстан                      3) Норвегия                      4) Эстония

8 В каком из субъектов Российской Федерации, обозначенных буквами на карте, средняя плотность населения наименьшая?



- 1) A                      2) B                      3) C                      4) D

9 Какое из представленных описаний верно характеризует Уральский экономический район России?

- 1) Район занимает значительную территорию на окраине страны. Для района характерна высокая обеспеченность минеральными, лесными и рыбными ресурсами. Территория слабо заселена. Недостаточно развита транспортная сеть. Основная проблема – удалённость от главных районов сбыта продукции.
- 2) Район имеет выход к побережью Северного Ледовитого океана. Развита международные связи. Добывающая промышленность – основа экономики. Имеются значительные запасы минеральных (нефть, природный газ, уголь, горно-химическое сырьё), водных и лесных ресурсов. Число крупных городов невелико. Отмечается слабое развитие транспортной сети.
- 3) Район занимает транзитное положение в транспортной системе страны. Характерны разнообразные минеральные ресурсы (нефть, природный газ, руды металлов, горно-химическое сырьё). Это промышленный район старого освоения. Развита: металлургия, машиностроение, химическая и лесная промышленность. Преобладают таёжные ландшафты.
- 4) Район использует главным образом привозное сырьё. Здесь сформировался ряд крупнейших транспортных узлов. Это самый густонаселённый район страны. Развита сеть городов. Район – экономический, политический и культурный центр страны. Имеет приграничное положение.

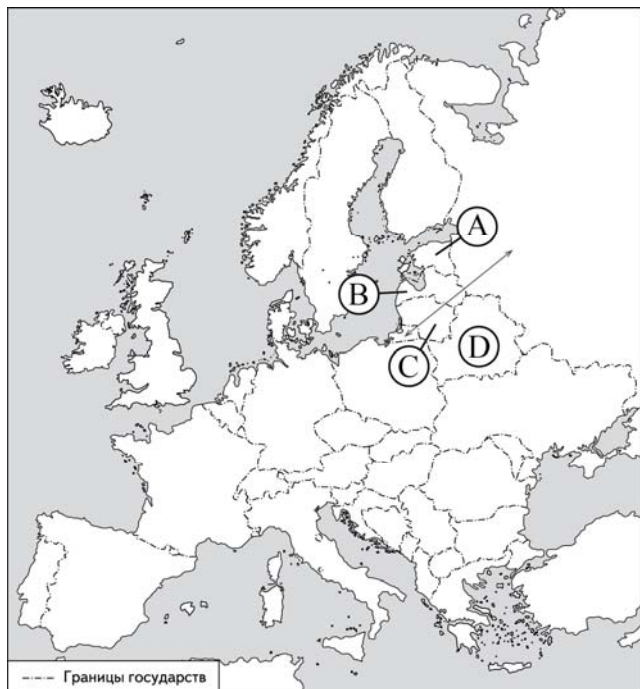
**10** Какая из перечисленных европейских стран является крупнейшим импортёром товаров из России?

- 1) Венгрия
- 2) Нидерланды
- 3) Норвегия
- 4) Франция

**11** Какой город-порт России является крупным морским портом международного значения?

- 1) Диксон
- 2) Новороссийск
- 3) Петрозаводск
- 4) Таганрог

**12** Какой буквой на карте Европы обозначена Эстонская Республика?



- 1) A
- 2) B
- 3) C
- 4) D

**13** По территории какой из перечисленных стран население распределено наиболее неравномерно?

- 1) Египет
- 2) Индия
- 3) Греция
- 4) ФРГ

**14** Расположите страны в порядке возрастания в них рождаемости (на 1 тыс. жителей).

Запишите получившуюся последовательность букв.

- 1) Австралия
- 2) Болгария
- 3) Венесуэла
- 4) Эфиопия

Ответ:

**15** Расположите страны в порядке уменьшения в них естественного прироста населения (на 1 тыс. жителей).

Запишите получившуюся последовательность букв.

- 1) Аргентина
- 2) Испания
- 3) Литва
- 4) Нигер

Ответ:

**16** Определите значение естественного прироста населения (в %) в Финляндии в 2011 г.

**Численность и естественный прирост населения Финляндии**

Год	2011	2012
Среднегодовая численность населения, человек	5 259 250	5 408 917
Естественный прирост населения, человек, значение показателя за год	25 991	–

Полученный результат округлите до целого числа.

Ответ: \_\_\_\_\_.

**17** В какой из перечисленных стран средняя ожидаемая продолжительность жизни населения наибольшая?

- 1) Монголия      2) Непал      3) Норвегия      4) Танзания

**18** О каких видах природных ресурсов идёт речь в описании страны: «Болгария – страна с богатой природой. Тёплое море, чистый воздух морского побережья, минеральные воды и лечебные грязи привлекают сюда многочисленных туристов»?

- 1) агроклиматических  
2) биологических  
3) водных  
4) рекреационных

**19** Верны ли следующие высказывания, характеризующие особенности экономического развития развивающихся стран мира?

- А) Для экономики этих стран характерна аграрно-сырьевая направленность.  
Б) Экономика этих стран характеризуется многопрофильной международной специализацией.

- 1) верно только А  
2) верно только Б  
3) верны оба высказывания  
4) оба высказывания неверны

**20** Для какой из перечисленных стран характерна структура ВВП, показанная на диаграмме?



- 1) Великобритания  
2) Канада  
3) Кения  
4) Саудовская Аравия

**21** Используя данные таблицы, сравните обеспеченность стран запасами железных руд. Расположите страны в порядке возрастания показателя их ресурсообеспеченности.

	Страна	Доказанные запасы железных руд, 2011 г. (млрд т)	Численность населения, 2012 г. (млн человек)
1)	Австралия	32	23
2)	Россия	43	143
3)	Украина	19	46

Запишите получившуюся последовательность букв.

- 1) Австралия      2) Россия      3) Украина

Ответ:

**22** Какие три экологические проблемы связаны с открытым способом добычи угля? Запишите цифры, соответствующие выбранным ответам.

- 1) Заблачивание обширных территорий вокруг карьеров.  
2) Нарушение гидрологического режима подземных вод.  
3) Образование большего объёма отходов пустой породы.  
4) Изменение химического состава атмосферы.  
5) Уничтожение верхнего плодородного слоя земли.  
6) Химическое загрязнение и засоление почв.

Ответ:

**23** Охране природы способствует

- 1) осушение болот  
2) перевод ТЭС с угля на природный газ  
3) сооружение оросительных каналов  
4) создание каскадов ГЭС на реках

**24** Выберите из списка три страны, в структуре производства электроэнергии которых преобладают ГЭС. Запишите цифры, соответствующие выбранным ответам.

- 1) Бразилия  
2) Великобритания  
3) Казахстан  
4) Канада  
5) Норвегия  
6) Польша

Ответ:

**25** Установите соответствие между страной и наименованием продукции, на производстве которой страна специализируется: к каждому элементу первого столбца подберите соответствующий элемент второго столбца. Запишите в строку ответов выбранные цифры под соответствующими буквами.

СТРАНА	ПРОДУКЦИЯ
А) Республика Корея (Южная Корея)	1) легковые автомобили
Б) Саудовская Аравия	2) морские суда
В) Пакистан	3) нефть и нефтепродукты
	4) хлопок и хлопчатобумажные изделия

Ответ:

А	Б	В

**26** Имея развитую чёрную металлургию, Польша и Франция одинаково зависят от поставок импортного сырья. Чем можно объяснить тенденции в размещении предприятий чёрной металлургии в Польше во внутренних районах страны, а во Франции – в районе морских побережий? Укажите не менее двух причин.

**27** Используя данные таблицы, приведённой ниже, сравните доли сельского хозяйства в ВВП и доли сельского хозяйства в общем объёме экспорта Дании и Германии. Сделайте вывод о том, в какой из этих стран сельское хозяйство играет большую роль в экономике. Для обоснования своего ответа запишите необходимые числовые данные или вычисления.

**Социально-экономические показатели развития Дании и Германии в 2012 г.**

Страна	Численность населения, млн человек	Доля городского населения, %	Отраслевая структура ВВП, %			Общий объём экспорта, млрд долл.	Объём сельскохозяйственного экспорта, млрд долл.
			Сельское хозяйство	Промышленность	Сфера услуг		
Дания	5,2	87	1,4	25,9	72,7	119,5	48,3
Германия	81,3	85	0,9	30,1	69,0	3818,3	59,5

**28** В соответствии с Законом «Об исчислении времени» и постановлением Правительства РФ с сентября 2011 г. на территории страны установлено 9 часовых зон (см. карту).



Самолёт вылетел из Ярославля (II часовая зона) в Иркутск (VI часовая зона) в 7 часов по московскому времени. Расчётное время полёта составляет 5 часов. Сколько времени будет в Иркутске, когда самолёт приземлится? Ответ запишите цифрами.

Ответ: \_\_\_\_\_.

**Ответы к заданиям**

№ задания	Ответ
1	4
2	2
3	2
4	4
5	3
6	3
7	2
8	3
9	3
10	2
11	2
12	1
13	1
14	2134
15	4123
16	5
17	3
18	4
19	1
20	4
21	231
22	235
23	2
24	145
25	231
28	17

**Критерии оценивания заданий с развёрнутым ответом**

**26** Имея развитую чёрную металлургию, Польша и Франция одинаково зависят от поставок импортного сырья. Чем можно объяснить тенденции в размещении предприятий чёрной металлургии в Польше во внутренних районах страны, а во Франции – в районе морских побережий? Укажите не менее двух причин.

Содержание верного ответа и указания по оцениванию (допускаются иные формулировки ответа, не искажающие его смысла)	Баллы
В ответе говорится, что: 1) чёрная металлургия Польши ориентирована на импорт железной руды, поступающей из Украины и России железнодорожным транспортом; 2) чёрная металлургия Франции переходит на привозное сырьё, которое доставляется морским путём из Бразилии, Швеции и других стран	

Ответ включает в себя два названных выше элемента	2
Ответ включает в себя один (любой) из названных выше элементов	1
Все ответы, которые не соответствуют вышеуказанным критериям выставления оценок в 1 и 2 балла	0
<i>Максимальный балл</i>	
	2

**27** Используя данные таблицы, приведённой ниже, сравните доли сельского хозяйства в ВВП и доли сельского хозяйства в общем объёме экспорта Дании и Германии. Сделайте вывод о том, в какой из этих стран сельское хозяйство играет большую роль в экономике. Для обоснования своего ответа запишите необходимые числовые данные или вычисления.

**Социально-экономические показатели развития Дании и Германии в 2012 г.**

Страна	Численность населения, млн человек	Доля городского населения, %	Отраслевая структура ВВП, %			Общий объём экспорта, млрд долл.	Объём сельскохозяйственного экспорта, млрд долл.
			Сельское хозяйство	Промышленность	Сфера услуг		
Дания	5,2	87	1,4	25,9	72,7	119,5	48,3
Германия	81,3	85	0,9	30,1	69,0	3818,3	59,5

Содержание верного ответа и указания по оцениванию (допускаются иные формулировки ответа, не искажающие его смысла)	Баллы
В ответе говорится, что: 1) доля сельского хозяйств в ВВП Дании выше, чем в ВВП Германии, и приводятся значения: 1,4 и 0,9; 2) доля сельского хозяйства в экспорте Дании выше, чем в экспорте Германии, и приводятся вычисления: 48,3 : 119,5 и 59,5 : 3 818,3 <b>ИЛИ</b> доля сельского хозяйства в экспорте Дании выше, чем в экспорте Германии и приводятся значения: 40% и 1,6%; 3) сельское хозяйство играет большую роль в экономике Дании	
Ответ включает в себя все три названных выше элемента	2
Ответ включает в себя два (любые) из названных выше элементов	1
Все ответы, которые не соответствуют вышеуказанным критериям выставления оценок в 1 и 2 балла	0
<i>Максимальный балл</i>	
	2